

Défi N°2 – CP

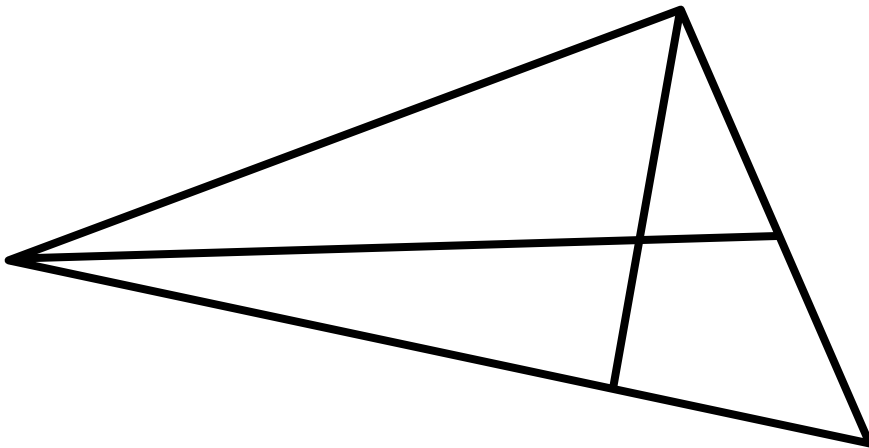
**1. Les triangles**

10 Points

Dans cette figure, il y a plusieurs triangles différents.

**Trouve-les tous.**

*(Pour chercher, tu peux t'aider de la feuille d'aide)*



**2. Les Bonnes Pâtisseries**

10 Points

Cette année le carnaval de l'école a pour thème les pays européens.

Dimitri décide de représenter l'Angleterre et Mathilda, l'Espagne.

**Combien coûtera chaque déguisement ?**



$$\text{crown} + \text{crown} + \text{crown} = 30\text{€}$$

$$\text{crown} + \text{crown} + \text{wand} = 25\text{€}$$

$$\text{crown} + \text{wand} + \text{flag} = 18\text{€}$$

	.....		.....		.....
---	-------	---	-------	---	-------




En tout, le déguisement de Dimitri coûte.....euros.



$$\text{dress} + \text{dress} + \text{dress} = 18\text{€}$$

$$\text{dress} + \text{fan} + \text{dress} = 16\text{€}$$

$$\text{hat} + \text{fan} = 12\text{€}$$

	.....		.....		.....
---	-------	---	-------	---	-------

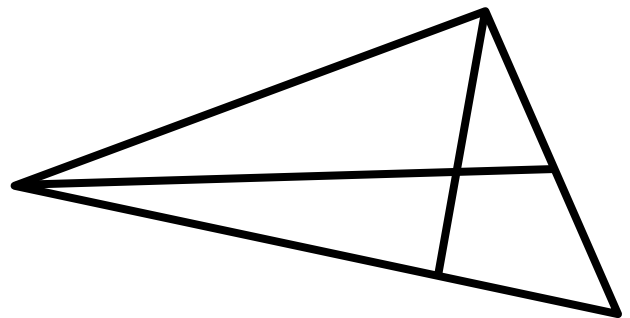
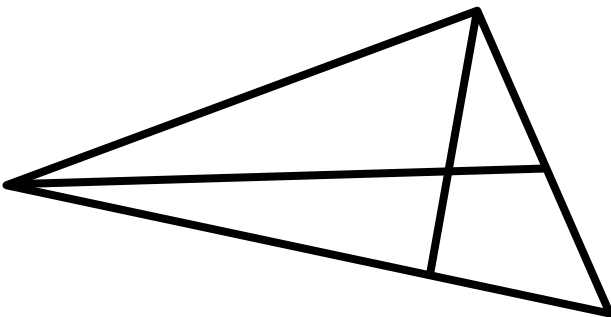
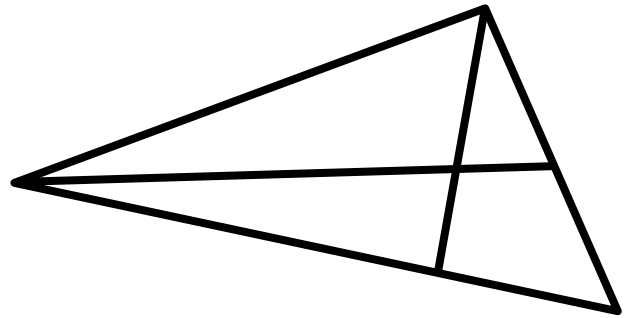
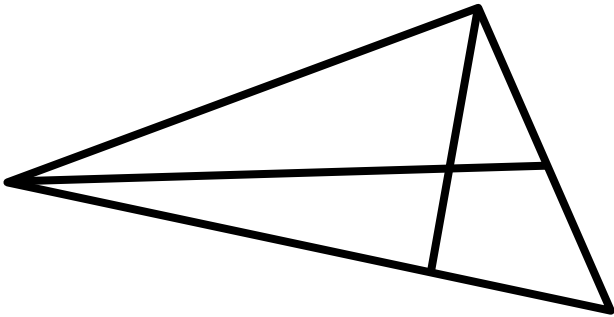
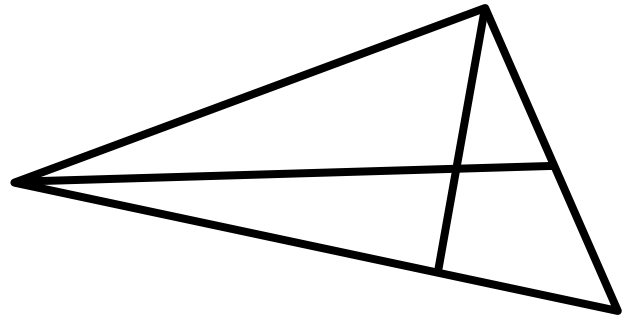
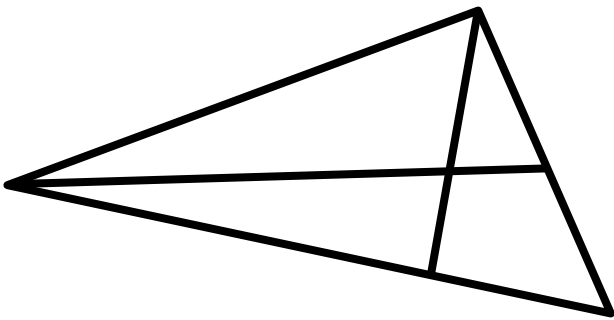
En tout, le déguisement de Mathilda coûte.....euros.

## AIDES POSSIBLES



Lorsque l'enseignant observe des élèves « bloqués » dans l'exercice, ne pas hésiter à distribuer les aides dès qu'elles sont nécessaires, y compris dès le début.

### Les triangles



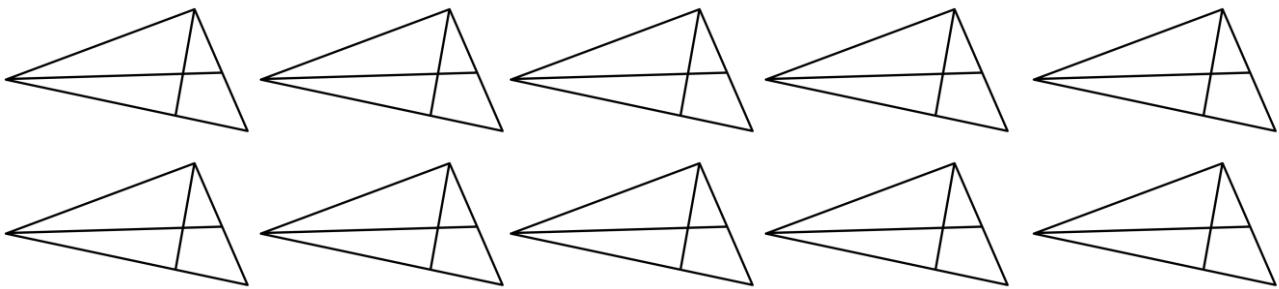
DEFI N°2 – NIVEAU CP- Fiche réponse

Ecole :  
Enseignant :

Classe :

**1. Les Triangles (10 points)**

Colorie les triangles que tu as trouvés

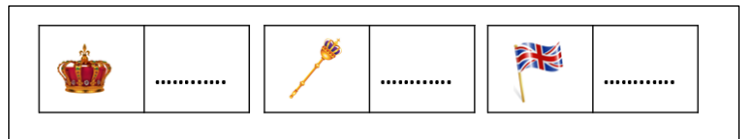


Il y a  triangles dans cette figure.

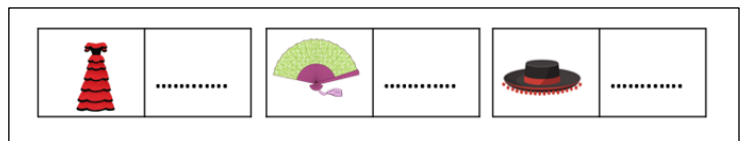
**2. Les bonnes pâtisseries (10 points)**

Ecris tes calculs :

Dimitri : .....  
.....  
.....  
.....



Mathilda : .....  
.....  
.....  
.....



Score : ..... points