

DEFI MATH 2015/2016

ENTRAINEMENT 3

Problème du mois de	avril	Niveau	CE2
---------------------	-------	--------	-----

Problème N° 1

Les plantations

Madame Bouleau a décidé de planter 4 arbres dans son terrain. Elle utilise une pelle et une brouette. Elle a besoin de 2 brouettées de terre par arbre. Pour remplir une brouette, il faut 10 pelletées de terre ; chaque pelletée pesant 3kg.

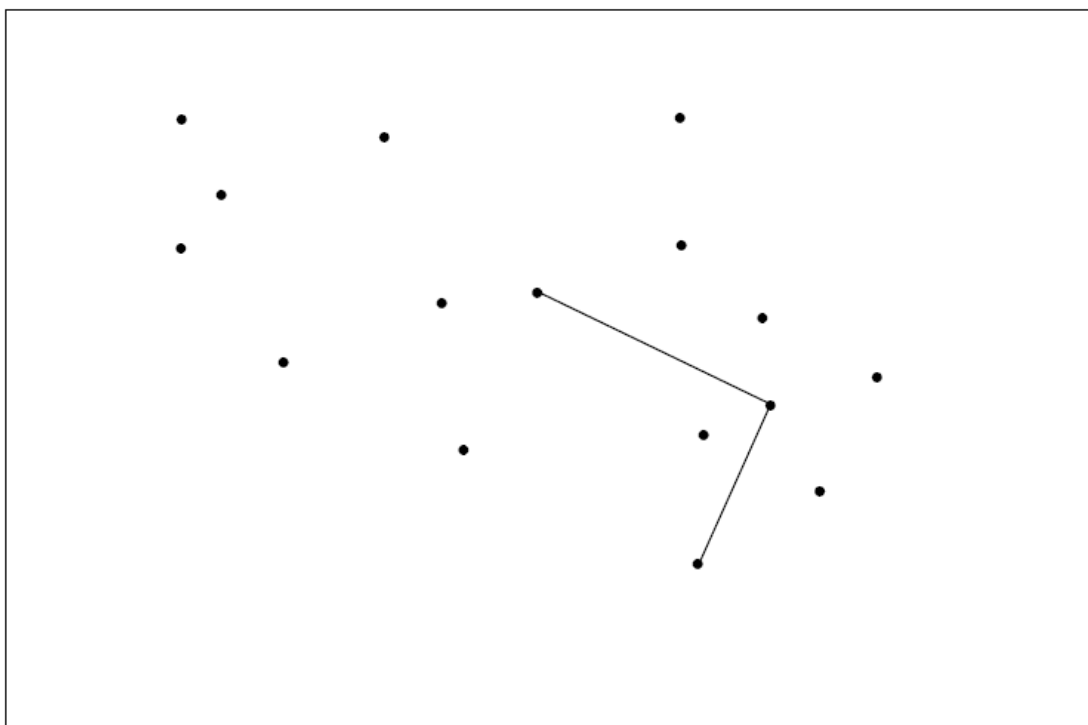
Quelle masse de terre Madame Bouleau devra-t-elle acheter ?

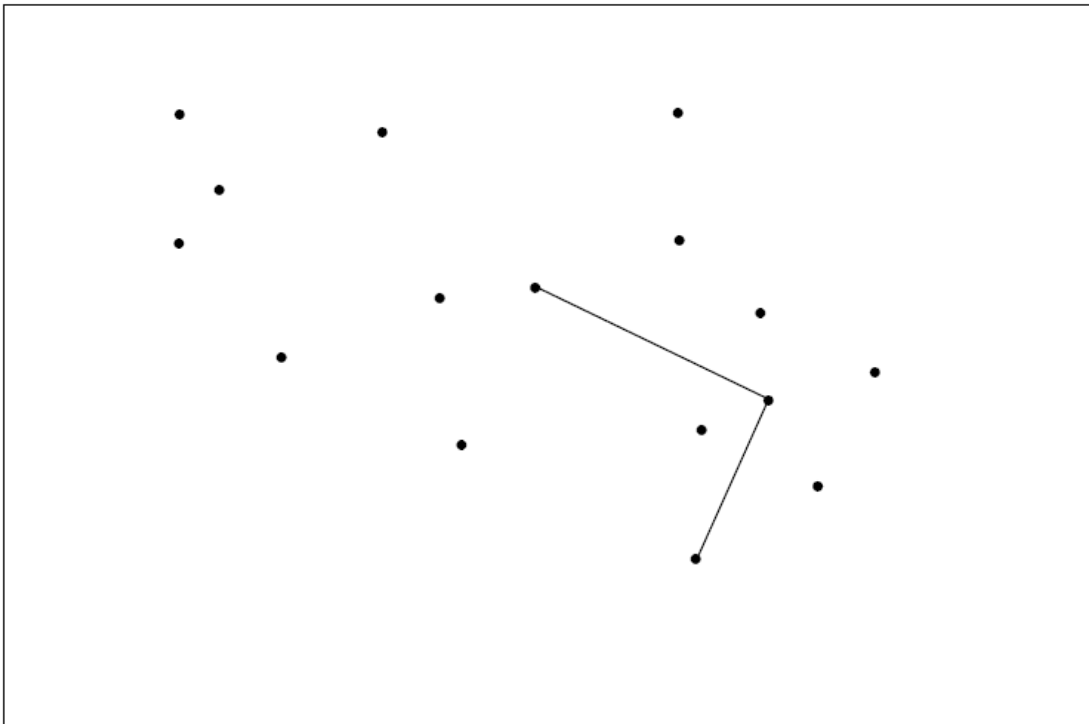
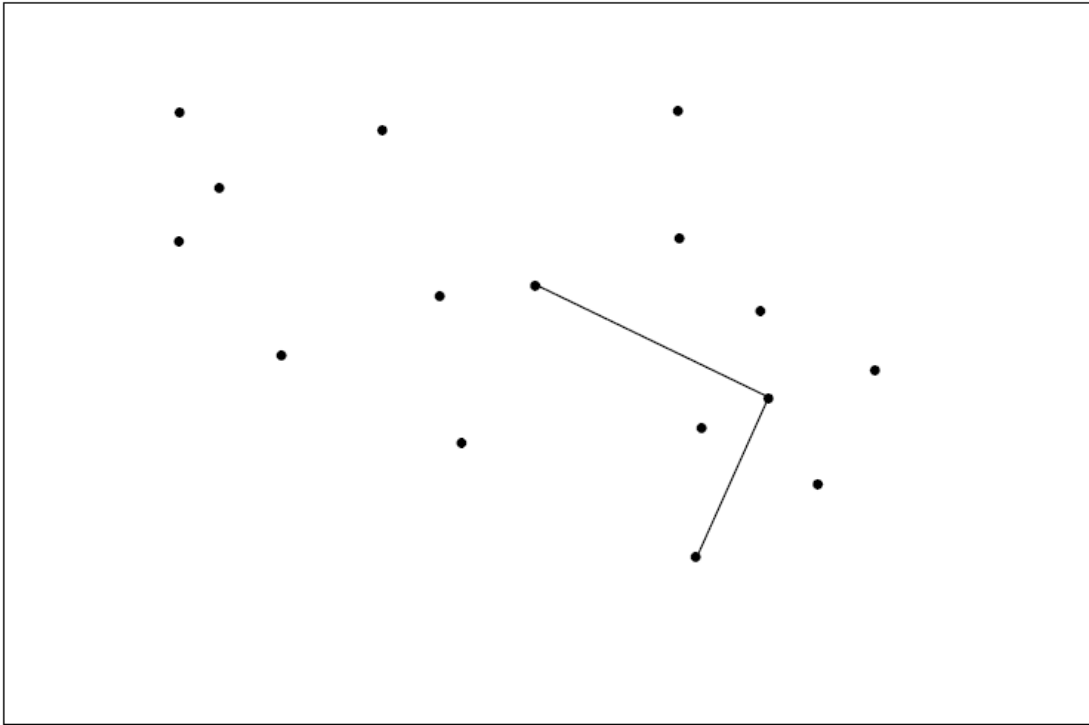


Problème N° 2

Carrés et rectangles

Trace deux carrés et deux rectangles en utilisant une seule fois chaque point





DEFI MATH 2015/2016

SOLUTIONS

Problème N° 1

Une pelletée \rightarrow 3 kg

Une brouette \rightarrow 10 pelletées $\rightarrow 3 \times 10 = 30$ kg

Deux brouettées $\rightarrow 2 \times 30 = 60$ kg

4 arbres $\rightarrow 4 \times 60 = 240$ kg

Problème N° 2

