

DEFI N°2 – CE1

1. Combien d'argent ?

sur 10 points

Ensemble, Anna, Younès et Léa ont 132 euros.

Anna a 52 euros.

Léa a 7 euros de moins que Younès.

Combien d'argent a Léa ?

Combien d'argent a Younès ?



Anna

Léa

Younès

2. D'un trait !

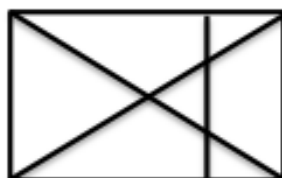
sur 10 points

Combien de figures peuvent être dessinées sans lever le crayon ?

- On a le droit de croiser deux traits
- On n'a pas le droit de repasser sur un trait



A



B



C

AIDES POSSIBLES

Lorsque l'enseignant observe des élèves « bloqués » dans l'exercice, ne pas hésiter à leur distribuer les aides dès qu'elles sont nécessaires, y compris dès le début

1. Combien d'argent ?


On peut proposer de visualiser la situation en plaçant les sommes correspondantes de départ :




Léa



Anna



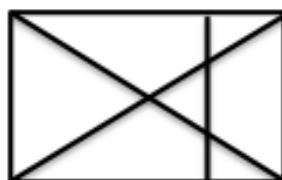
Younès



2. D'un trait !



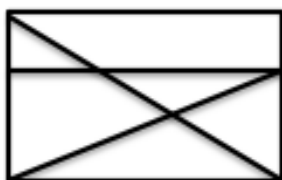
A



B



C



A



B



C



A



B



C

DEFI N° 2 – CE1 - Fiche réponse

Ecole :
Enseignant :

Classe :

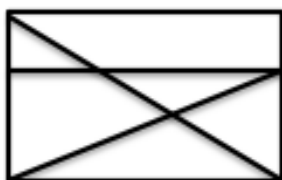
1. Combien d'argent pour Léa ? (10 points)

Léa a euros.

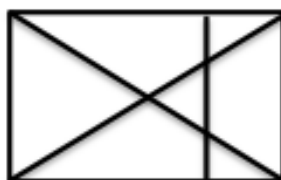
Younès a euros.

2. D'un trait ! (10 points)

Entoure la lettre de la figure qui peut être dessinée d'un trait :



A



B



C

Score : points