

DEFI N°2 – CP

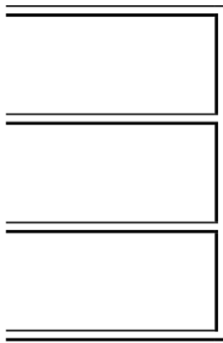
1. Le garage

sur 10 points

Ces 3 voitures



veulent se garer dans ce garage.



Trouve toutes les solutions possibles.

2. Les triangles

sur 10 points

Observe bien les 3 figures A,B,C.

Compte le nombre de triangles dans chacune de ces figures.



**DEFI N° 2 – CP - Fiche réponse**

**Ecole :**  
**Enseignant :**

**Classe :**

**1. Le garage (10 points)**















**2. Les triangles (10 points)**



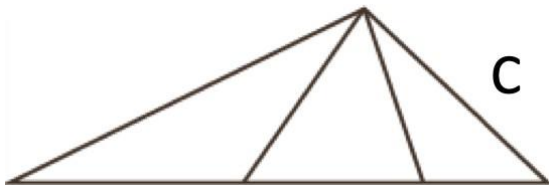
**A**

A..... triangles



**B**

B ..... triangles



**C**

C ..... triangles

**Score ..... points**

## AIDES POSSIBLES



# RALLYE MATH 2022/2023

---










# RALLYE MATH 2022/2023

---



A



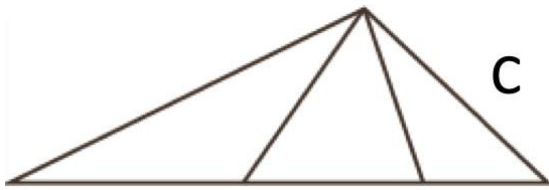
A



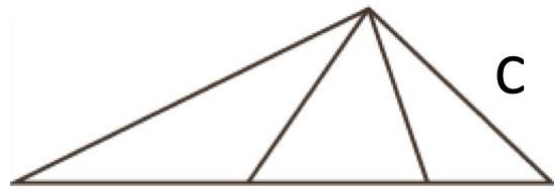
B



B



C



C



A



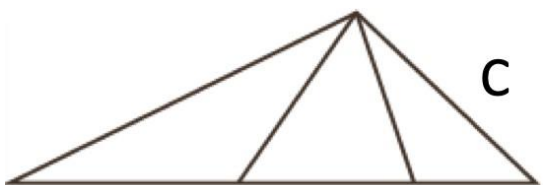
A



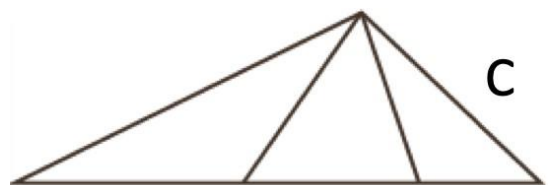
B



B



C



C