

Défi N°2 – CP

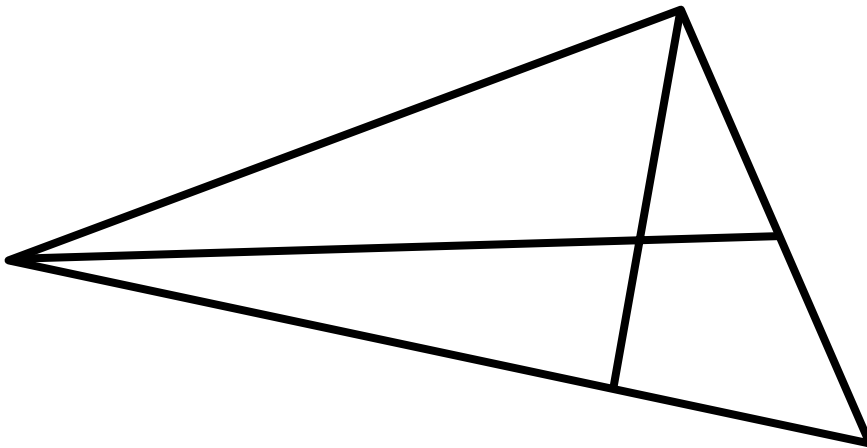
**1. Les triangles**

10 Points

Dans cette figure, il y a plusieurs triangles différents.

**Trouve-les tous.**

*(Pour chercher, tu peux t'aider de la feuille d'aide)*




**2. Les Bonnes Pâtisseries**










10 Points

Cette année le carnaval de l'école a pour thème les pays européens. `

Dimitri décide de représenter l'Angleterre et Mathilda, l'Espagne.


**Combien coûtera chaque déguisement ?**














 +  +  = 30€  
 +  +  = 25 €  
 +  +  = 18 €

|                                                                                   |       |                                                                                   |       |                                                                                   |       |
|-----------------------------------------------------------------------------------|-------|-----------------------------------------------------------------------------------|-------|-----------------------------------------------------------------------------------|-------|
|  | ..... |  | ..... |  | ..... |
|-----------------------------------------------------------------------------------|-------|-----------------------------------------------------------------------------------|-------|-----------------------------------------------------------------------------------|-------|

En tout, le déguisement de Dimitri coûte.....euros.



 +  +  = 18 €  
 +  +  = 16 €  
 +  = 12 €

|                                                                                     |       |                                                                                     |       |                                                                                     |       |
|-------------------------------------------------------------------------------------|-------|-------------------------------------------------------------------------------------|-------|-------------------------------------------------------------------------------------|-------|
|  | ..... |  | ..... |  | ..... |
|-------------------------------------------------------------------------------------|-------|-------------------------------------------------------------------------------------|-------|-------------------------------------------------------------------------------------|-------|

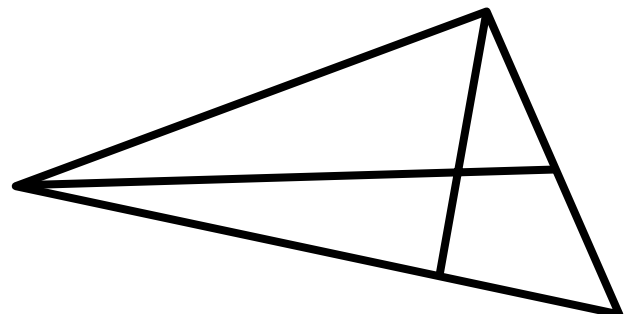
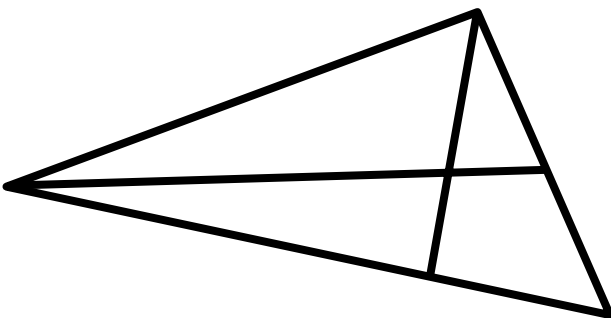
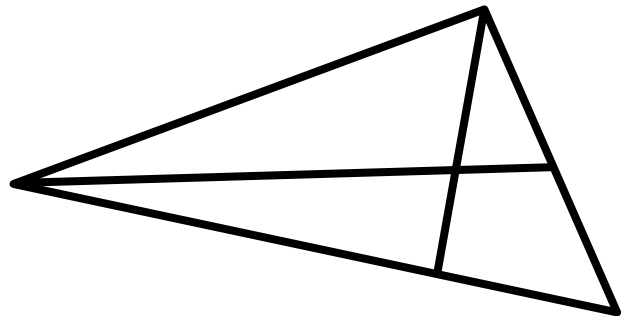
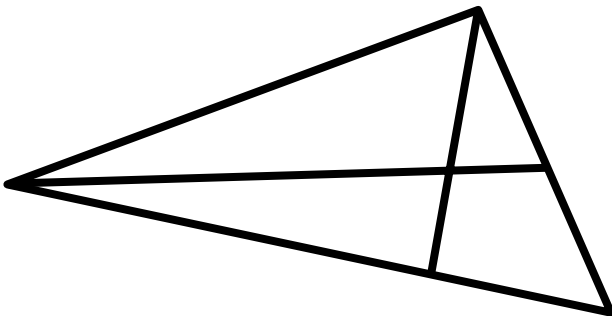
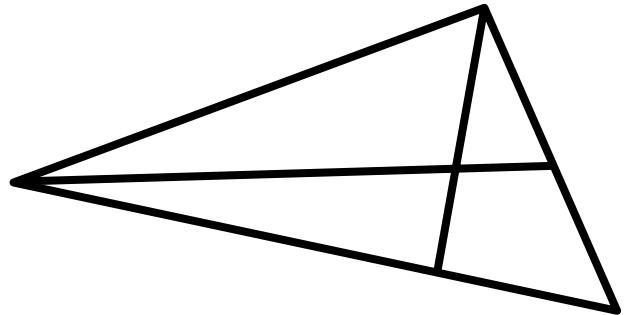
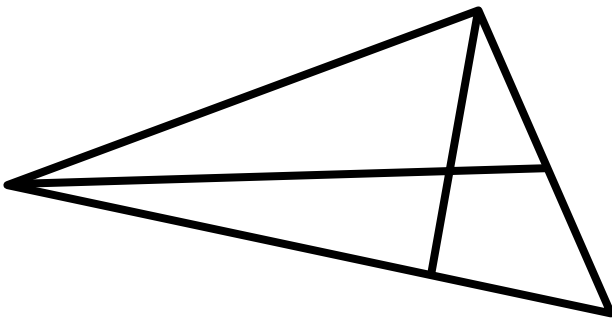
En tout, le déguisement de Mathilda coûte.....euros.

## AIDES POSSIBLES



Lorsque l'enseignant observe des élèves « bloqués » dans l'exercice, ne pas hésiter à distribuer les aides dès qu'elles sont nécessaires, y compris dès le début.

### Les triangles



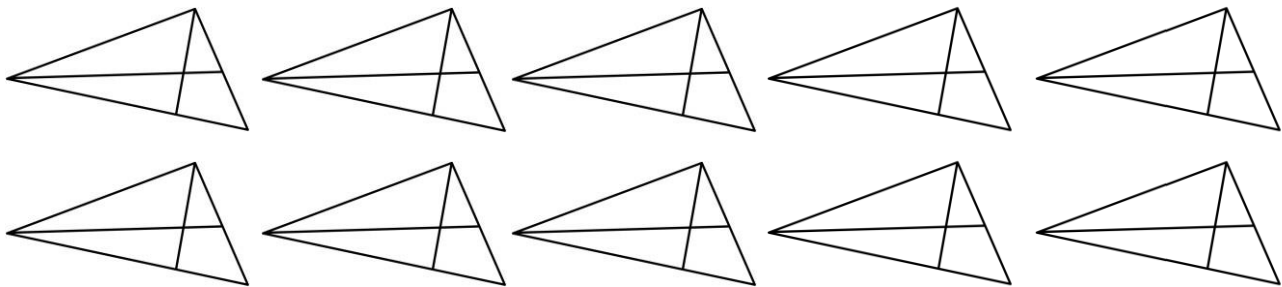
DEFI N°2 – NIVEAU CP- Fiche réponse

Ecole :  
Enseignant :

Classe :

**1. Les Triangles (10 points)**

Colorie les triangles que tu as trouvés

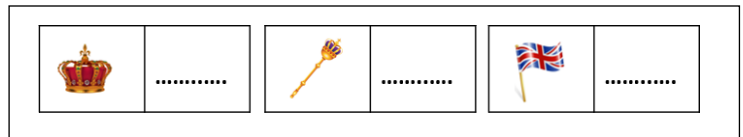


Il y a  triangles dans cette figure.

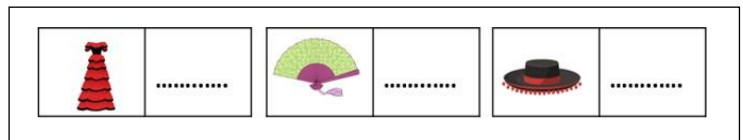
**2. Les bonnes pâtisseries (10 points)**

Ecris tes calculs :

Dimitri : .....  
.....  
.....  
.....



Mathilda : .....  
.....  
.....  
.....



Score .....points