

DEFI N°2 – NIVEAU CE2

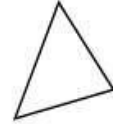
1. Un peu de rangement ...

sur 10 points

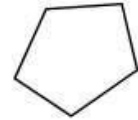
Pierre est monté dans le grenier de sa mamie. Il a trouvé dans une boîte 5 triangles et 5 pentagones.



1 triangle:



1 pentagone:



Il voudrait les ranger dans ces deux boites pour obtenir le même nombre de côtés dans chaque boîte.



Combien de triangles et de pentagones faut-il mettre dans chaque boîte ?

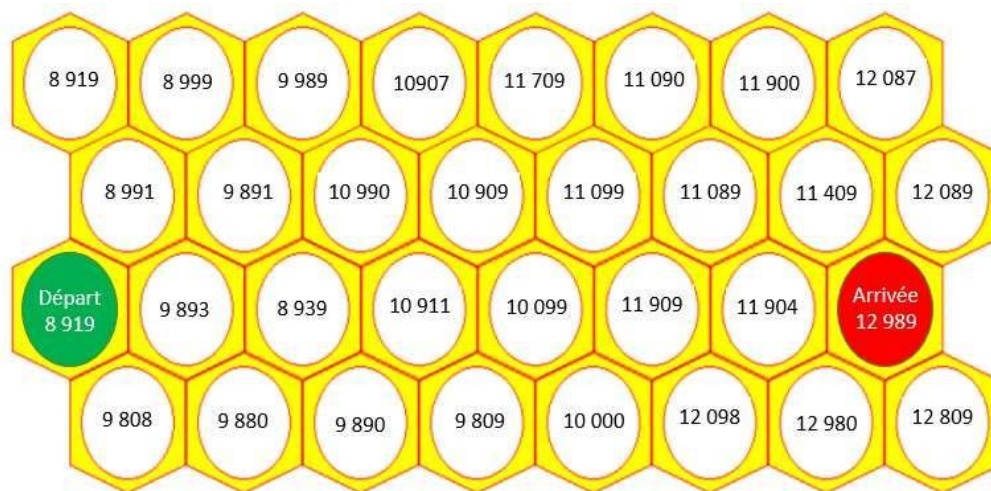
RALLYE MATHS 2023/2024

2. Annabeille

sur 10 points

BZZZZ... BZZZZ... Avance d'alvéole en alvéole toujours vers un nombre **plus grand**.

Trouve le bon chemin.




AIDES POSSIBLES pour les élèves



Lorsque l'enseignant observe des élèves « bloqués » dans l'exercice, ne pas hésiter à distribuer les aides dès qu'elles sont nécessaires, y compris dès le début.

1. Un peu de rangement...

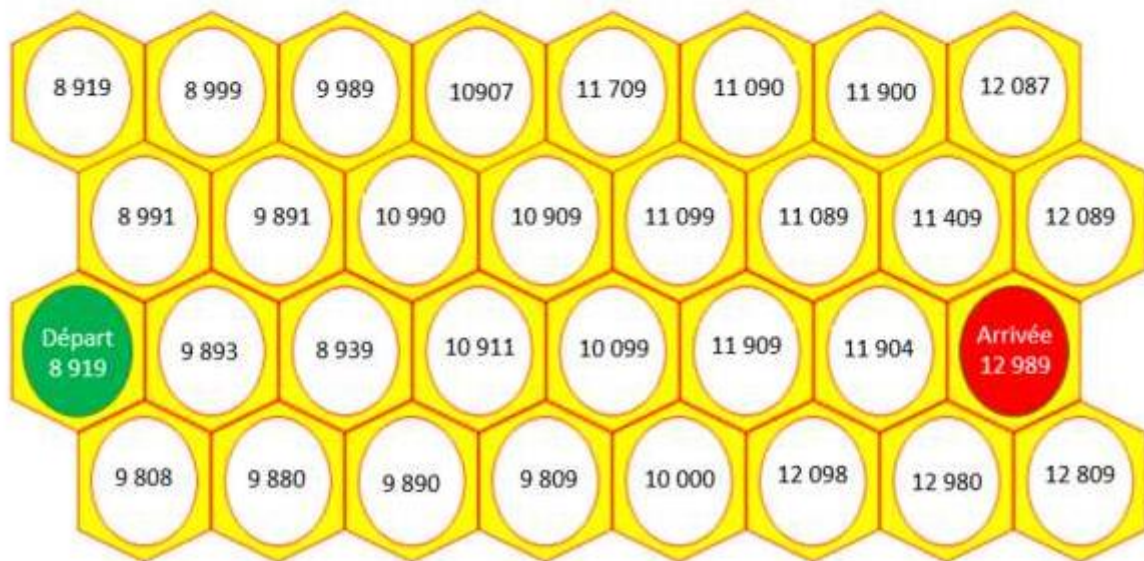
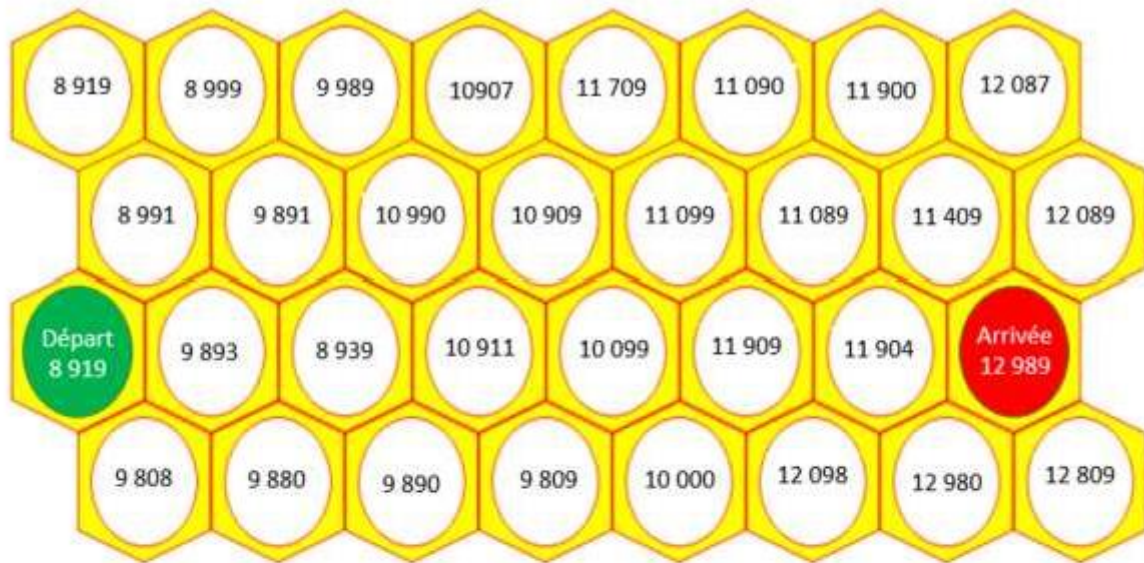
Sur 10 points



RALLYE MATHS 2023/2024

2. Annabeille

sur 10 points



DEFI N°2 – NIVEAU CE2 - Fiche réponse

Ecole :

Enseignant :

Classe :

1. Un peu de rangement... (10 points)



Boite 1

Boite 2

2. Annabeille (10 points)

Colorie le chemin :

