


DEFI MATH N°2 – CE1

2013-2014

1. Les étoiles

Louise voudrait colorier toutes ses étoiles. Mais elle aimerait colorier 4 étoiles rouges de plus que d'étoiles bleues.

Colorie le bon nombre d'étoiles rouges et d'étoiles bleues.



8 points

2. Le chiffre 1

Pour écrire les nombres jusqu'à 111, combien de fois utilise-t-on le chiffre 1 ?

12 points

3. Devinette

Je suis un nombre.

- Mon chiffre des unités est le double de 4.

- Mon chiffre des dizaines est la moitié de 10.

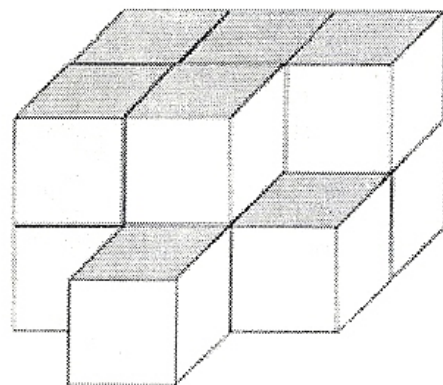
- Mon chiffre des centaines est la moitié de mon chiffre des unités.

Qui suis-je ?

10 points

4. Les cubes

Combien Léo a-t-il utilisé de cubes pour faire cette construction



12 points

DEFI MATH N°2 – CE1

Fiche réponse

2013-2014

Ecole :


Enseignant :

Classe :

Groupe :

1. Les étoiles

Colorie les étoiles



8 points

2. Le chiffre 1

Pour écrire le nombre 111, il faut utiliser fois le chiffre 1.

12 points

3. Devinette

Je suis le nombre

10 points

4. Les cubes


Léo a utilisé cubes.

12 points

DEFI MATH N°2 – CE1 (corrections)

2013-2014

1. Les étoiles



13 étoiles rouges et 9 étoiles bleues

8 points

2. Le chiffre 1

Pour écrire les nombres jusqu'à 111, il faut utiliser 36 fois le chiffre 1.

1 - 10 - 11 - 12 - 13 - 14 - 15 - 16 - 17 - 18 - 19 - 21 - 31 - 41 - 51 - 61 - 71
- 81 - 91 - 100 - 101 - 102 - 103 - 104 - 105 - 106 - 107 - 108 - 109 - 110 -
111

12 points

3. Devinette

- Mon chiffre des unités est le double de 4 → 8
- Mon chiffre des dizaines est la moitié de 10 → 5
- Mon chiffre des centaines est la moitié de mon chiffre des unités → 4

Je suis le nombre 458

10 points

4. Les cubes

Léo a utilisé 12 cubes pour faire cette construction

12 points